


PL - počítame s jednotkou

Meno: _____

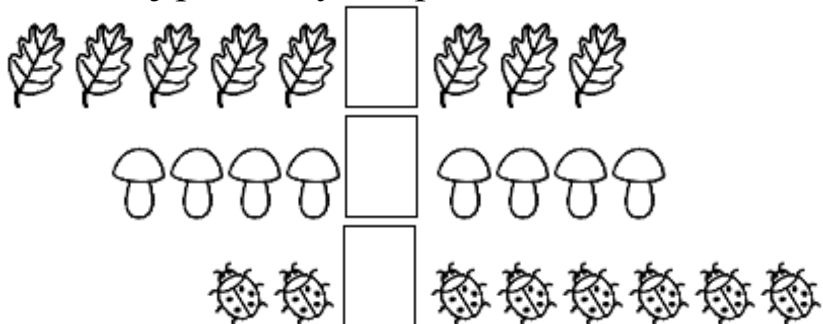
1. Precvič si písanie číslice a znakov.

1								
1								
<	>	=						

2. Zapiš číslom počet predmetov.



3. Porovnaj predmety a zapiš znamienka >, <, =.




PL - počítame s jednotkou

Meno: _____

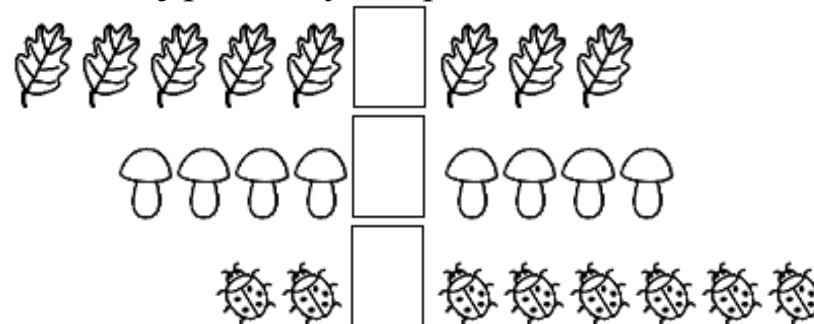
1. Precvič si písanie číslice a znakov.

1								
1								
<	>	=						

2. Zapiš číslom počet predmetov.

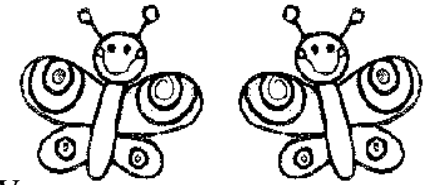


3. Porovnaj predmety a zapiš znamienka >, <, =.



PL - počítame do 2

Meno: _____



1. Precvič si písanie číslíc.

2								
1								
1	2							

2. Zapiš číslom počet predmetov.

<input type="text"/>	<input type="text"/>	<input type="text"/>	<input type="text"/>	<input type="text"/>

3. Predmety v okienkach spočítaj a zapiš číslom.
Príklady vypočítaj. Do poslednej tabuľky dokresli.

<input type="text"/>	+	<input type="text"/>	=

<input type="text"/>	+	<input type="text"/>	=

<input type="text"/>	+	<input type="text"/>	=

<input type="text"/>			
1	+	1	=

4. Porovnaj a zapiš >, <, =.



1 <input type="text"/> 2	2 <input type="text"/> 2
1 <input type="text"/> 1	2 <input type="text"/> 1
<input type="text"/>	<input type="text"/>
<input type="text"/>	<input type="text"/>
<input type="text"/>	<input type="text"/>