



Veľkonočné úlohy na násobenie a delenie

1. Janka s mamičkou piekli veľkonočné medovníky. Upiekli 5 plechov po 6 medovníkov. Koľko medovníkov to bolo spolu?

Zápis:

príklad:



Odpoveď:

2. Janka nachystala šibáčom čokoládové vajíčka. Vajíčok mala 20 a rozdelila ich rovnako do 4 košíkov. Koľko vajíčok bolo v každom košíku?

Zápis:

príklad:



Odpoveď:

3. Janku prišlo vyšibať 8 kamarátov. Každému z nich uviazala na korbáč 3 stuhy. Koľko stúh minula Janka?

Zápis:

príklad:



Odpoveď:

4. Každý z kamarátov, ktorý Janku vyšibal, si zobral 2 vajíčka. Koľko vajíčok Janke zostalo?

Zápis:

príklad:

Odpoveď:

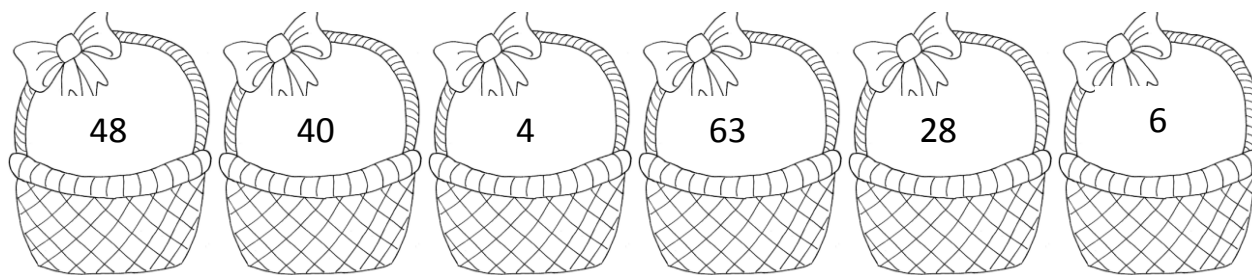
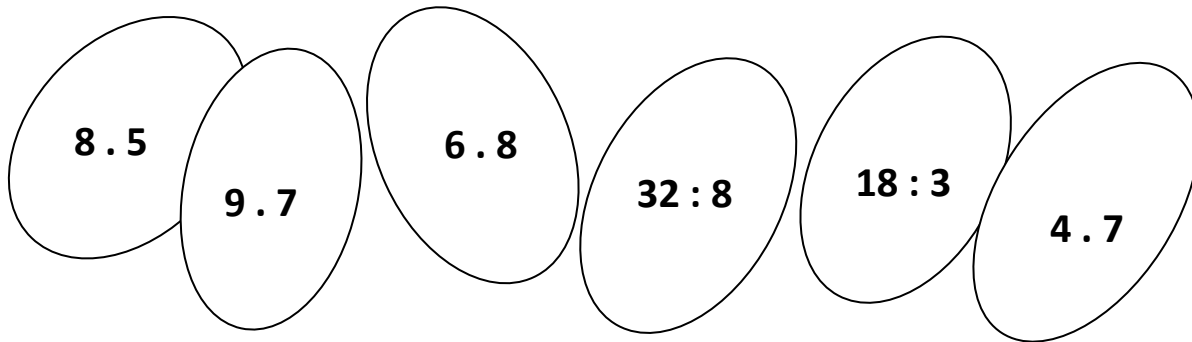
5. Traja kamaráti zjedli po 4 medovníky a šiesti po 2 medovníky. Koľko medovníkov zjedli spolu? Koľko ich Janke zostalo?

Zápis:

príklad:

Odpoveď:


6. Spoj a vyfarbi vajíčko s košíkom, do ktorého patrí rovnakou farbou.



7. Násobky čísla 8 vyfarbi žltou farbičkou a násobky čísla 6 zelenou farbičkou.

15	16	17	18	24	30
32	42	54	55	57	58
63	64	66	72	81	88

8. Ku každému číslu v kuriatku utvor príklad na násobenie.



.....

9. Doplň chýbajúce číslo v príklade a vylúšti tajničku.

$7 \cdot \underline{\quad} = 42 - E$ $\underline{\quad} : 5 = 5 - N$ $\underline{\quad} \cdot 3 = 3 - V$ $35 : \underline{\quad} = 7 - Á$
 $54 : \underline{\quad} = 6 - Ľ$ $\underline{\quad} \cdot 4 = 32 - O$ $\underline{\quad} : 3 = 9 - K$ $8 \cdot \underline{\quad} = 24 - C$

1	6	9	27	5		25	8	3